

'14 後期 理系 ①

提出 年 月 日 名前

p を素数とする. 整数を係数とする n 次多項式 $f(x)$ ($n \geq 1$) で, 以下の 3 条件を同時に満たしているものをすべて求めよ.

- ・ x^n の係数は 1.
- ・ $f(0) = p$.
- ・ 方程式 $f(x) = 0$ の解は相異なる n 個の整数.

'14 後期 理系 ②

提出 年 月 日 名前

$f(x) = ax(1-x)$ に対し, $g(x) = f(f(x))$ とする. ここで a は正の実数とする.

- (1) $g\left(\frac{1}{2}\right)$ を a の関数とみなす. その関数の最大値, およびそのときの a を求めよ.
- (2) $0 \leq x \leq 1$ において, $g(x)$ が $x = \frac{1}{2}$ で最大値をとるような a の範囲を求めよ.
- (3) a が (2) で求めた範囲を動くとき, $g\left(\frac{1}{2}\right)$ の値が最大となる a を求めよ.

'14 後期 理系 ③

提出 年 月 日 名前

- (1) 双曲線 $\frac{x^2}{4} - \frac{y^2}{9} = 1$ と直線 $y = ax + b$ が共有点を持つような (a, b) 全体からなる領域 E を ab 平面上に図示せよ.
- (2) (1) の領域を (a, b) が動くとき, $(a - 15)^2 + b^2$ の最小値, およびそのときの (a, b) を求めよ.

'14 後期 理系 ④

提出 年 月 日 名前

- (1) すべての正の実数 x に対して不等式 $\frac{a}{x^2+1} \leq \frac{1}{x}$ が成立するような実数 a のうちで最大となるものを求めよ.
- (2) 定積分 $\int_1^{\sqrt{3}} \frac{dx}{x^2+1}$ を求めよ.
- (3) 円周率 π と $\log 27$ の大小を判定せよ. ただし $\log x$ は x の自然対数とする.

'14 後期 理系 ①

p を素数とする. 整数を係数とする n 次多項式 $f(x)$ ($n \geq 1$) で, 以下の 3 条件を同時に満たしているものをすべて求めよ.

- ・ x^n の係数は 1.
- ・ $f(0) = p$.
- ・ 方程式 $f(x) = 0$ の解は相異なる n 個の整数.

$f(x) = 0$ の異なる n 個の整数解を $-\alpha_1, -\alpha_2, \dots, -\alpha_n$ とすると, $f(x)$ の最高次係数が 1 であることから,

$f(x) = (x + \alpha_1)(x + \alpha_2) \cdots (x + \alpha_n)$ となるので, $f(0) = \alpha_1 \alpha_2 \cdots \alpha_n$.

よって, $\alpha_1 \alpha_2 \cdots \alpha_n = p$ ($\alpha_1, \alpha_2, \dots, \alpha_n$ は相異なる整数) を満たす集合 $\{\alpha_1, \alpha_2, \dots, \alpha_n\}$ を求めればよい.

p は素数なので, p の約数は負の数まで含めても $\pm 1, \pm p$ のみ.

よって求める集合は $\{p\}, \{1, p\}, \{-1, -p\}, \{1, -1, -p\}$ に限られる.

以上より $f(x) = x + p, (x + 1)(x + p), (x - 1)(x - p), (x + 1)(x - 1)(x - p)$

'14 後期 理系 ②

$f(x) = ax(1-x)$ に対し、 $g(x) = f(f(x))$ とする。ここで a は正の実数とする。

- (1) $g\left(\frac{1}{2}\right)$ を a の関数とみなす。その関数の最大値、およびそのときの a を求めよ。
- (2) $0 \leq x \leq 1$ において、 $g(x)$ が $x = \frac{1}{2}$ で最大値をとるような a の範囲を求めよ。
- (3) a が (2) で求めた範囲を動くとき、 $g\left(\frac{1}{2}\right)$ の値が最大となる a を求めよ。

【方針】 関数 $f(f(x)) = a\{ax(1-x)\}\{1-ax(1-x)\}$ の式を相手にしない。

$u = f(x)$ とおくと、 $y = g(x) = f(u)$.

(1) $x = \frac{1}{2}$ のとき $u = f\left(\frac{1}{2}\right) = \frac{a}{4}$ より、

$$y = g\left(\frac{1}{2}\right) = f\left(\frac{a}{4}\right) = -\frac{1}{16}a^2(a-4) = -\frac{1}{16}(a^3 - 4a^2).$$

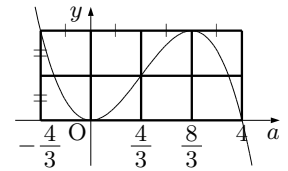
$$\frac{dy}{da} = -\frac{1}{16}(3a^2 - 8a) = -\frac{1}{16}a(3a - 8)$$
 より右の増減表を得る。

よって 最大値は $\frac{16}{27}$ ($a = \frac{8}{3}$ のとき)

a	0	...	$\frac{8}{3}$...
$\frac{dy}{da}$	(0)	+	0	-
y	(0)	↗	$\frac{16}{27}$	↘

One Point

3次関数のグラフの特徴から、 $a = \frac{8}{3}$ で最大になることは微分する前からわかっていなくてはいけないことです。



(2) $u = f(x) = -a\left(x - \frac{1}{2}\right)^2 + \frac{a}{4}$ であり、 $a > 0$ よりグラフは右図のようになる。

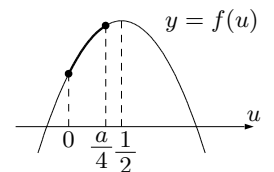
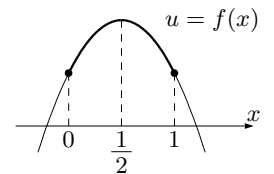
よって $0 \leq x \leq 1$ における u の値域は $0 \leq u \leq \frac{a}{4}$.

次に $x = \frac{1}{2}$ のとき $u = f\left(\frac{1}{2}\right) = \frac{a}{4}$ より、

求めるのは $0 \leq u \leq \frac{a}{4}$ において $y = f(u)$ が $u = \frac{a}{4}$ で最大値をとるような a の範囲。

$y = f(u) = -a\left(u - \frac{1}{2}\right)^2 + \frac{a}{4}$ であり、 $a > 0$ よりグラフは右図のようになる。

よって求める a の範囲は $0 < \frac{a}{4} \leq \frac{1}{2} \iff$ $0 < a \leq 2$



(3) (1) の増減表より、 $0 < a \leq 2$ ($< \frac{8}{3}$) における右の増減表を得るので、

$g\left(\frac{1}{2}\right)$ が最大になる a の値は $a = 2$

a	0	...	2
$\frac{dy}{da}$	(0)	+	+
y	(0)	↗	

'14 後期 理系 ③

- (1) 双曲線 $\frac{x^2}{4} - \frac{y^2}{9} = 1$ と直線 $y = ax + b$ が共有点を持つような (a, b) 全体からなる領域 E を ab 平面上に図示せよ.
 (2) (1) の領域を (a, b) が動くとき、 $(a - 15)^2 + b^2$ の最小値、およびそのときの (a, b) を求めよ.

(1) $a, b \in \mathbb{R}$ に対し、

双曲線 $\frac{x^2}{4} - \frac{y^2}{9} = 1$ と直線 $y = ax + b$ が共有点を持つ.

$$\iff \exists x, y (\in \mathbb{R}), \frac{x^2}{4} - \frac{y^2}{9} = 1 \wedge y = ax + b$$

$$\iff \exists x, y (\in \mathbb{R}), \frac{x^2}{4} - \frac{(ax + b)^2}{9} = 1 \wedge y = ax + b$$

$$\iff \exists x (\in \mathbb{R}), (4a^2 - 9)x^2 + 8abx + 4b^2 + 36 = 0 \quad \textcircled{1}$$

(i) $4a^2 - 9 = 0 \iff a = \pm \frac{3}{2}$ のとき、

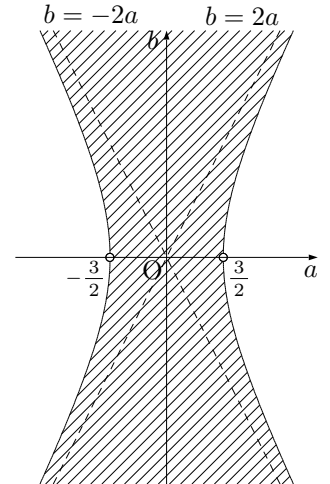
$$\textcircled{1} \iff \exists x (\in \mathbb{R}), \pm 12bx + 4b^2 + 36 = 0 \iff b \neq 0$$

(ii) $4a^2 - 9 \neq 0 \iff a \neq \pm \frac{3}{2}$ のとき、

$$\textcircled{1} \iff \frac{(\text{判別式})}{4} = (4ab)^2 - (4a^2 - 9)(4b^2 + 36) \geq 0 \iff \frac{4a^2}{9} - \frac{b^2}{9} \leq 1$$

$$(i), (ii) \text{ より } \textcircled{1} \iff \begin{cases} a = \pm \frac{3}{2} \\ b \neq 0 \end{cases} \vee \begin{cases} a \neq \pm \frac{3}{2} \\ \frac{4a^2}{9} - \frac{b^2}{9} \leq 1 \end{cases} \text{ であり,}$$

図示すると右図斜線部. ただし、境界は 2 点 $(\pm \frac{3}{2}, 0)$ のみ含まず.



'14 後期 理系 ③

(2) $f(a, b) = (a - 15)^2 + b^2$ とおき、定義域 E に対する $z = f(a, b)$ の値域を W とする.

【方針 1】 順像法

E 内において $a = t$ と固定すると、 $z = f(t, b) = b^2 + (t - 15)^2$ は b の関数であり、

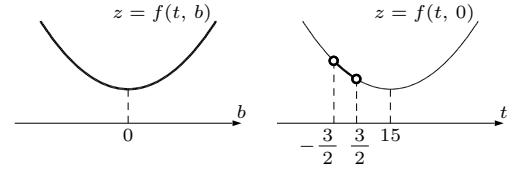
(i) $-\frac{3}{2} < t < \frac{3}{2}$ のとき、 b の範囲は全実数.

$$\text{よって } f(t, 0) \leq f(t, b) \iff (t - 15)^2 \leq f(t, b)$$

次に t を動かすと $f(t, 0)$ の下限は

$$f\left(\frac{3}{2}, 0\right) = \left(\frac{3}{2} - 15\right)^2 = 225 - 45 + \frac{9}{4} = 182 + \frac{1}{4}.$$

$$\text{よって } -\frac{3}{2} < a < \frac{3}{2} \text{ のときの } z \text{ の値域は } 182 + \frac{1}{4} < z$$

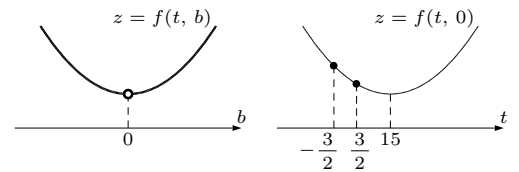


(ii) $t = \pm\frac{3}{2}$ のとき、 b の範囲は 0 以外の全実数.

$$\text{よって } f(t, 0) < f(t, b) \iff (t - 15)^2 < f(t, b)$$

次に t を動かすと $f(t, 0)$ の最小値は $f\left(\frac{3}{2}, 0\right) = 182 + \frac{1}{4}$.

$$\text{よって } a = \pm\frac{3}{2} \text{ のときの } z \text{ の値域は } 182 + \frac{1}{4} < z$$



(iii) $t < -\frac{3}{2}$, $\frac{3}{2} < t$ のとき、

$$b \text{ の範囲は } \frac{4t^2}{9} - \frac{b^2}{9} \leq 1 \iff b^2 \geq 4t^2 - 9$$

$$\iff b \leq -\sqrt{4t^2 - 9}, \sqrt{4t^2 - 9} \leq b$$

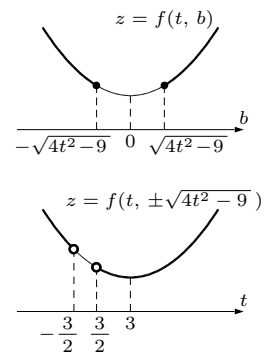
$$\text{よって } f(t, \pm\sqrt{4t^2 - 9}) \leq f(t, b) \iff (4t^2 - 9) + (t - 15)^2 \leq f(t, b)$$

$$\iff 5t^2 - 30t + 216 \leq f(t, b)$$

$$\iff 5(t - 3)^2 + 171 \leq f(t, b)$$

次に t を動かすと $f(t, \pm\sqrt{4t^2 - 9})$ の最小値は $f(3, \pm 3\sqrt{3}) = 171$.

$$\text{よって } a < -\frac{3}{2}, \frac{3}{2} < a \text{ のときの } z \text{ の値域は } 171 \leq z$$



(i)~(iii) より $W : 171 \leq z$ であるので $f(a, b)$ の最小値は 171 $((a, b) = (3, \pm 3\sqrt{3})$ のとき)

【方針 2】 逆像法

$$k \in W \iff \exists (a, b) (\in E), k = (a - 15)^2 + b^2$$

$$\iff \text{領域 } E \text{ と図形 } C_k : (a - 15)^2 + b^2 = k \text{ が共有点を持つ} \dots \textcircled{2}$$

$k \leq 0$ のとき $\textcircled{2}$ を満たさないのだから $k > 0$ のときのみ考えればよい.

$\textcircled{2}$ を満たす k の最小値は、 E の境界線 $\frac{4a^2}{9} - \frac{b^2}{9} = 1$ のうち、

$a > \frac{3}{2}$ の部分の点 $P(a_0, b_0)$ と点 $A(15, 0)$ の距離の 2 乗の最小値である.

$$AP^2 = (a_0 - 15)^2 + b_0^2$$

$$= (a_0 - 15)^2 + (4a_0^2 - 9) \left(\frac{4a_0^2}{9} - \frac{b_0^2}{9} = 1 \text{ より} \right)$$

$$= 5a_0^2 - 30a_0 + 216$$

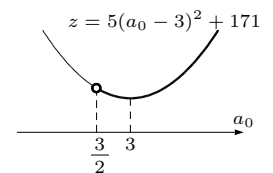
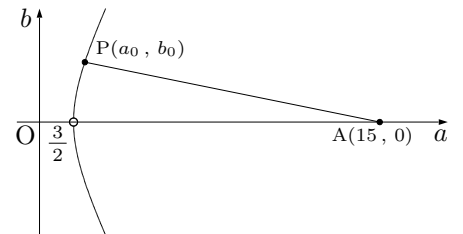
$$= 5(a_0 - 3)^2 + 171$$

$a_0 > \frac{3}{2}$ なので右図より AP^2 は $a_0 = 3$ のとき最小値は 171 をとる.

またこのとき $b_0^2 = 4 \cdot 3^2 - 9 = 27$ より $b_0 = \pm 3\sqrt{3}$.

以上より $\textcircled{2} \iff 171 \leq k$.

よって $W : 171 \leq z$ であるので $f(a, b)$ の最小値は 171 $((a, b) = (3, \pm 3\sqrt{3})$ のとき)



'14 後期 理系 ④

- (1) すべての正の実数 x に対して不等式 $\frac{a}{x^2+1} \leq \frac{1}{x}$ が成立するような実数 a のうちで最大となるものを求めよ.
- (2) 定積分 $\int_1^{\sqrt{3}} \frac{dx}{x^2+1}$ を求めよ.
- (3) 円周率 π と $\log 27$ の大小を判定せよ. ただし $\log x$ は x の自然対数とする.

(1) $\frac{a}{x^2+1} \leq \frac{1}{x} \iff a \leq x + \frac{1}{x}$ ($x^2+1 > 0$ より) であり, $f(x) = x + \frac{1}{x}$ とおくと,
 $\forall x (> 0), f(x) \geq a \iff a \leq (f(x) \text{ の } x > 0 \text{ における最小値})$ ①.

$x > 0$ より相加相乗平均の不等式により $f(x) \geq 2\sqrt{x \cdot \frac{1}{x}} = 2$ が成り立ち,

$x = \frac{1}{x} \iff x = 1$ ($x > 0$ より) のとき等号が成り立つので, $f(x)$ の $x > 0$ における最小値は $f(1) = 2$.

よって ① $\iff a \leq 2$ なのでこれを満たす a の最大値は $a = 2$.

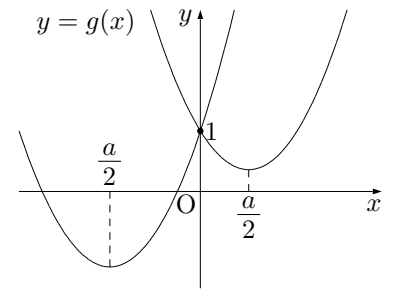
【別解】

$\frac{a}{x^2+1} \leq \frac{1}{x} \iff x^2 - ax + 1 \geq 0$ ($x^2+1, x > 0$ より) であり, $g(x) = x^2 - ax + 1$ とおくと,

$g(x) = \left(x - \frac{a}{2}\right)^2 + 1 - \frac{a^2}{4}$ なので, 右図より,

$$\begin{aligned} \forall x (> 0), g(x) \geq 0 &\iff \frac{a}{2} \leq 0 \vee \left[\frac{a}{2} \geq 0 \wedge 1 - \frac{a^2}{4} \geq 0 \right] \\ &\iff a \leq 0 \vee [a \geq 0 \wedge -2 \leq a \leq 2] \\ &\iff a \leq 0 \vee 0 \leq a \leq 2 \\ &\iff a \leq 2 \end{aligned}$$

これを満たす a の最大値は $a = 2$.



(2) $x = \tan \theta$ とおくと, $dx = (1 + \tan^2 \theta)d\theta$, $\frac{x}{\theta} \Big|_{\frac{\pi}{4}}^{\frac{\pi}{3}} \begin{matrix} 1 \rightarrow \sqrt{3} \\ \frac{\pi}{4} \rightarrow \frac{\pi}{3} \end{matrix}$ なので,

$$\int_1^{\sqrt{3}} \frac{dx}{x^2+1} = \int_{\theta=\frac{\pi}{4}}^{\theta=\frac{\pi}{3}} d\theta = \left[\theta \right]_{\frac{\pi}{4}}^{\frac{\pi}{3}} = \frac{\pi}{3} - \frac{\pi}{4} = \frac{\pi}{12}.$$

One Point

三角関数の逆関数の微分 $\begin{cases} \frac{d}{dx} \tan^{-1} x = \frac{1}{1+x^2} \\ \frac{d}{dx} \sin^{-1} x = \frac{1}{\sqrt{1-x^2}} \end{cases}$ ($-\frac{\pi}{2} < \sin^{-1} x < \frac{\pi}{2}$) は有名です.

これを用いれば $\int_1^{\sqrt{3}} \frac{dx}{x^2+1} = \left[\tan^{-1} x \right]_1^{\sqrt{3}} = \frac{\pi}{3} - \frac{\pi}{4} = \frac{\pi}{12}$ と求めることができます.

(3) (1) より正の x に対して $\frac{2}{x^2+1} \leq \frac{1}{x} \dots$ ② なので,

$$2 \int_1^{\sqrt{3}} \frac{dx}{x^2+1} < \int_1^{\sqrt{3}} \frac{dx}{x} \quad (\text{②の等号は } x=1 \text{ のときのみ成り立つので左式の等号は成り立たない})$$

$$\iff 2 \cdot \frac{\pi}{12} < \left[\log |x| \right]_1^{\sqrt{3}} \iff \pi < 6 \log \sqrt{3} \iff \pi < \log 27$$

One Point

参考までに $y = \frac{2}{x^2+1}$ と $y = \frac{1}{x}$ のグラフは右のようになります.

$1 \leq x \leq \sqrt{3}$ では振る舞いが近いことが読み取れます.
 また $\log 27 = 3.2958 \dots$ という値になります.

